



ВЕСЕЛІ РІВНЯННЯ

Проаналізуй математичні вирази й знайди числові значення їжачка та мишки.
Напиши відповіді в порожніх квадратах зі знаком питання.


 $+$

 $=$






 $+$

 $=$



 $+$

 $=$



 $=$


 $=$
